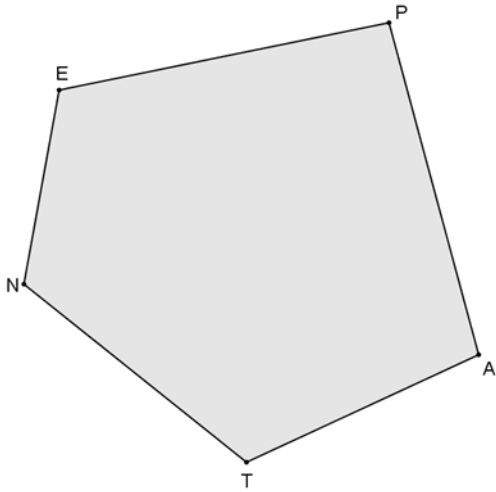


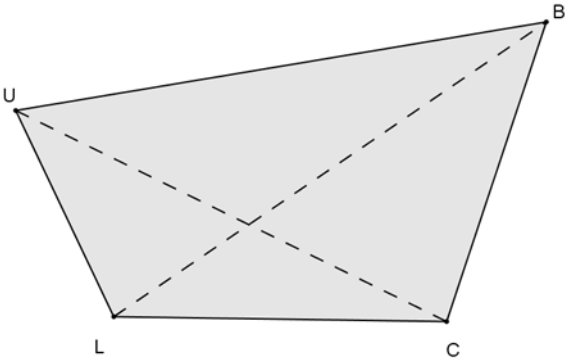
# LE VOCABULAIRE DES POLYGONES

**EXERCICE 1**



1. Donner tous les noms possibles de ce polygone.
2. Comment appelle-t-on un polygone à cinq côtés ?

**EXERCICE 2**



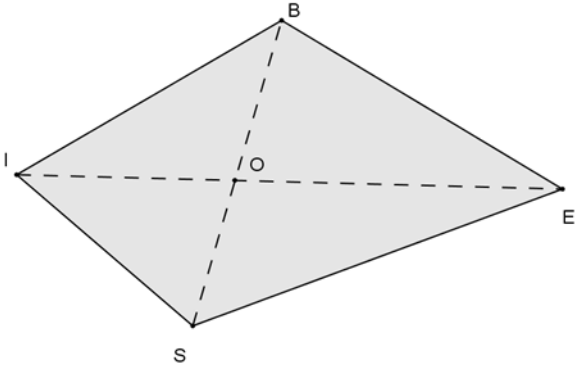
Compléter les pointillés :

1. .... et .... sont des côtés opposés.
2. .... et .... sont des côtés consécutifs.
3. .... et .... sont des sommets
4. .... et .... sont des diagonales.

**EXERCICE 3**

1. Donner tous les noms possibles du triangle SKI.
2. Donner tous les noms possibles de l'octogone AZERTYUI.

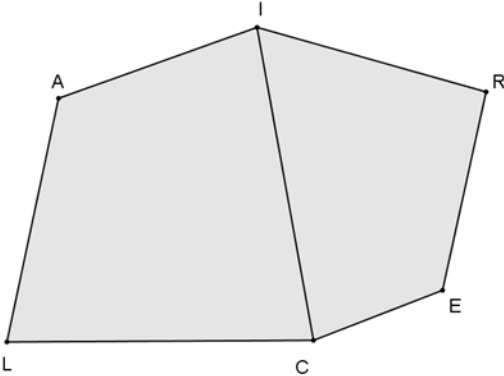
**EXERCICE 4**



Vrai ou faux ?

1. [UL] et [BC] sont des côtés consécutifs. ....
2. [UL] et [UB] sont des côtés consécutifs. ....
3. [BU] et [CL] sont des côtés opposés. ....
4. O est un sommet .....

**EXERCICE 5**



Compléter les pointillés, dans le quadrilatère CLAI.

1. [AL] et [IC] sont des côtés .....
2. [AC] et [LI] sont les .....
3. A et C sont des ..... opposés.
4. [LC] et [CI] sont des côtés .....

Compléter les pointillés, dans le quadrilatère CIRE.

5. [EC] et ..... sont des côtés consécutifs.
6. .... et .... sont des sommets opposés.
7. .... et .... sont des diagonales.
8. [RE] et ..... sont des côtés opposés.